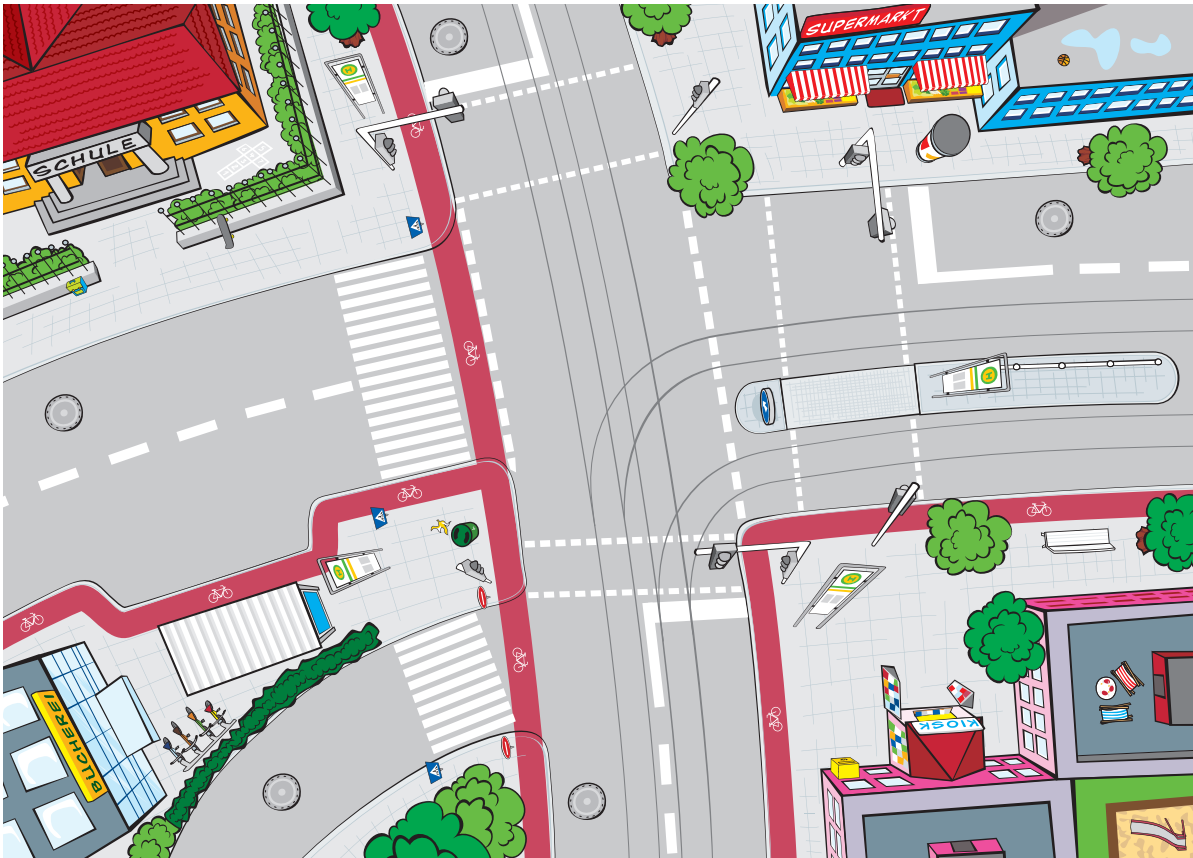


## Arbeitsblatt 1 – Komplexe Verkehrssituation

### Unterwegs in der Stadt

Schau dir die abgebildete Verkehrssituation genau an. Stell' dir vor, du stehst vor der Bücherei, dein Freund Max wartet am Kiosk auf dich, dort wollt ihr noch etwas kaufen. Wie gelangst du sicher zu Max? Und wie erreicht ihr die Haltestelle bei der Schule, von der aus ihr den Bus zum Freibad nehmen wollt? Erzähle die Geschichte.



---

---

---

---

---

---

---

---

Arbeitsblatt 2 – Checkliste zur Haltestelle

**Wie sieht es an deiner Haltestelle aus?**

a) Wie heißt die Haltestelle in der Nähe deines Hauses?

b) Wie lange bist du von zu Hause bis dort unterwegs?

c) Wie viele Straßen musst du auf dem Weg überqueren?

d) An wie vielen davon gibt es eine Ampel oder einen Zebrastreifen?

e) Welche Bus- und Bahnlinien fahren an deiner Haltestelle?

f) Wie heißen die Endhaltestellen dieser Linien?

g) In welche Richtung musst du fahren, wenn du zur Schule möchtest?

**2. Diese Schilder gibt es an Bus- und Bahnhaltestellen.  
Ordne die Bilder den Begriffen zu.**

U-Bahn



S-Bahn



Deutsche Bahn



Haltestelle



Arbeitsblatt 3 – Sicherheit und Verhalten an der Haltestelle

### Auf Bus und Bahn warten kann doch jeder!?

Zum Warten an der Haltestelle hat SchokoTicket-Maskottchen Flo einiges zu sagen. Welche Behauptungen sind richtig, welche falsch? Begründe deine Entscheidung.

1 „OB ICH NAH AM STRAßENRAND STEHE ODER NICHT, IST EGAL. DER BUSFAHRER PASST BEIM HERANFAHREN SCHON AUF.“

2 „WENN DER BUS KOMMT, KANN ICH SOFORT HINGEHEN UND EINSTEIGEN UND MUSS DABEI NICHT AUF RADFAHRER AUF DEM RADWEG ACHTEN.“

3 „WENN ICH MIT MEINEM MP3-PLAYER MUSIK HÖREN WILL, DANN ABER LEISE UM DIE ANDEREN LEUTE NICHT ZU STÖREN.“

4 „AN DER HALTESTELLE HERUMZUTOBEN UND ZU RANGELN KANN GANZ SCHÖN GEFÄHRlich SEIN. DAS LASSEN WIR BESSER.“

5 „DER HAMBURGER WAR LECKER! DIE VERPACKUNG KANN ICH EINFACH FALLEN LASSEN, DIE HALTESTELLE WIRD JA BESTIMMT GEREINIGT.“

6 „NACH DEM AUSSTEIGEN BLOß NICHT DIREKT VOR ODER HINTER DEM BUS AUF DIE STRAßE LAUFEN! DABEI KÖNNTE MICH EIN AUTO ANFAHREN, WEIL MICH DER FAHRER NICHT RECHTZEITIG SEHEN KANN.“

1 \_\_\_\_\_

2 \_\_\_\_\_

3 \_\_\_\_\_

4 \_\_\_\_\_

5 \_\_\_\_\_

6 \_\_\_\_\_

## Busse und Bahnen fahren nach Plan

a) Wie heißt die Haltestelle an der Schule?

b) Suche die Schule auf dem Linienplan. Welche Linien fahren dort?

und

c) Wie heißen die Endhaltestellen dieser Linien?

und

und

d) Suche zwei Beispiele für eine Haltestelle, an der sich mehrere Linien treffen:

Name der Haltestelle:  Linien:

Name der Haltestelle:  Linien:

e) Verfolge den Weg der Linie 2: An welchen Haltestellen kann man von der Linie 2 in eine andere Linie umsteigen?

Haltestelle:  umsteigen in Linie:

Haltestelle:  umsteigen in Linie:

Haltestelle:  umsteigen in Linie:

Haltestelle:  umsteigen in Linie:



f) Kennst du von zu Hause eine Haltestelle, an der zwei oder mehrere Linien abfahren?

---

---

## Wir planen ein Klassenausflug

Wir wollen mit der Klasse zum Zoo fahren und suchen uns nun die Verbindung dafür aus dem Linienplan heraus:

- a) Mit welchen Linien gelangen wir schnellstmöglich von der Schule zum Zoo?

- b) Wie oft müssen wir umsteigen?

- c) An welchen Haltestellen müssen wir umsteigen?

Erste Linie:


Umstiegshaltestelle:

Zweite Linie:

Zielhaltestelle:

- d) Wer ein SchokoTicket hat, kann im ganzen Gebiet des VRR damit Bus und Bahn fahren. Alle anderen müssen für die Ausflugsfahrt ein Ticket kaufen. Wo kann man überall Tickets für öffentliche Verkehrsmittel kaufen?

- im Supermarkt
- im DB Reisezentrum
- beim Busfahrer
- bei der Post
- an Automaten in Bahnhöfen und an Haltestellen
- im KundenCenter vom Verkehrsunternehmen
- in der Bäckerei



### Gewusst wann!

Wenn du mit dem Bus fahren möchtest, kannst du dich vorher im Fahrplan deiner Linie über die Fahrzeiten informieren. Der Plan verrät dir, wann der Bus an den jeweiligen Haltestellen abfährt und wie lange er zu einer anderen Haltestelle braucht.

- a) Schau dir den Fahrplan der Linie 2 an: Wenn die Bahn um 7:06 Uhr an der Haltestelle „Arena“ abfährt – wann erreicht sie die „Sommerallee“?

Uhr

Wie viel Zeit musst du für die Fahrt von der Musikschule bis zum Stadttor einplanen?

Minuten

- b) Betrachte nun den Fahrplan der Linie 4: Wenn du um 9:55 Uhr zu Fuß die Haltestelle „Klassenweg“ erreichst, wann fährt von dort der nächste Bus in Richtung Museum?

Uhr

Wann bist du am Ziel?

Uhr

Wie lange ist der Bus vom „Klassenweg“ bis zur „Münsterstraße“ unterwegs?

Minuten



Arbeitsblatt 7 – Thema Fahrpläne

## Ein Nachmittag im Zoo

Du möchtest mit ein paar Freunden in den Zoo fahren. Ihr startet an der Haltestelle „Klassenweg“. Suche auf dem Linienplan die Linien heraus, mit denen ihr zum Zoo kommt:

a) Welche Linien bringen euch vom „Klassenweg“ zum Zoo?

und

b) Wo müsst ihr umsteigen?

c) Wie heißt eure Zielhaltestelle?

Nun schau in den Fahrplänen nach, wann die beiden Linien fahren.

d) In welchem Takt fährt die Linie 2 am Nachmittag?

Alle  Minuten



e) Ihr wollt am Klassenweg um 13:11 Uhr losfahren. Wie viel Zeit habt ihr zum Umsteigen?

Ankunft an der Umstiegshaltestelle:  Uhr

Abfahrt der zweiten Linie von dort:  Uhr

Zeit zum Umsteigen:  Minuten

f) Wie lange dauert die Fahrt insgesamt?

Vom Klassenweg bis zur Umstiegshaltestelle:  Minuten

Zeit zum Umsteigen dort:  Minuten

Von dort bis zur Zielhaltestelle:  Minuten

Gesamtfahrzeit:  Minuten

### Mein neuer Schulweg

Wenn du zur weiterführenden Schule wechselst, ist vieles neu – auch dein Schulweg, mit dem du dich am besten rechtzeitig vertraut machst. Teste zusammen mit deinen Eltern den neuen Schulweg und beantworte dazu folgende Fragen:

a) Wie heißt die Schule, die du ab Klasse 5 besuchen wirst?

b) Wie heißt die Haltestelle, an der du einsteigst, um zur Schule zu fahren?

c) Welche Linie musst du von dort nehmen?

d) In welche Richtung musst du fahren?

e) Musst du umsteigen? An welcher Haltestelle?

f) Wie heißt die Haltestelle in der Nähe deiner neuen Schule, an der du aussteigen musst?

g) Wie lange fahren Bus oder Bahn dorthin?

h) Wie viele Straßen musst du nach dem Aussteigen auf dem Weg zur Schule noch überqueren?

i) Wie lange bist du insgesamt unterwegs?

**Tipp:** Fahrten mit Bus und Bahn lassen sich prima am Computer mit der Elektronischen Fahrplanauskunft (EFA) planen. Wie das geht, kannst du zusammen mit deinen Eltern unter [www.vrr.de](http://www.vrr.de) ausprobieren.



Arbeitsblatt 9 – Sicher und komfortabel unterwegs

**1. Was läuft hier falsch? 2. Wie kann man es besser machen? 3. Wie könnte es weitergehen?**

Geschichte 1




Geschichte 2



Arbeitsblatt 10 – Sicher und komfortabel unterwegs

**1. Was läuft hier falsch? 2. Wie kann man es besser machen? 3. Wie könnte es weitergehen?**

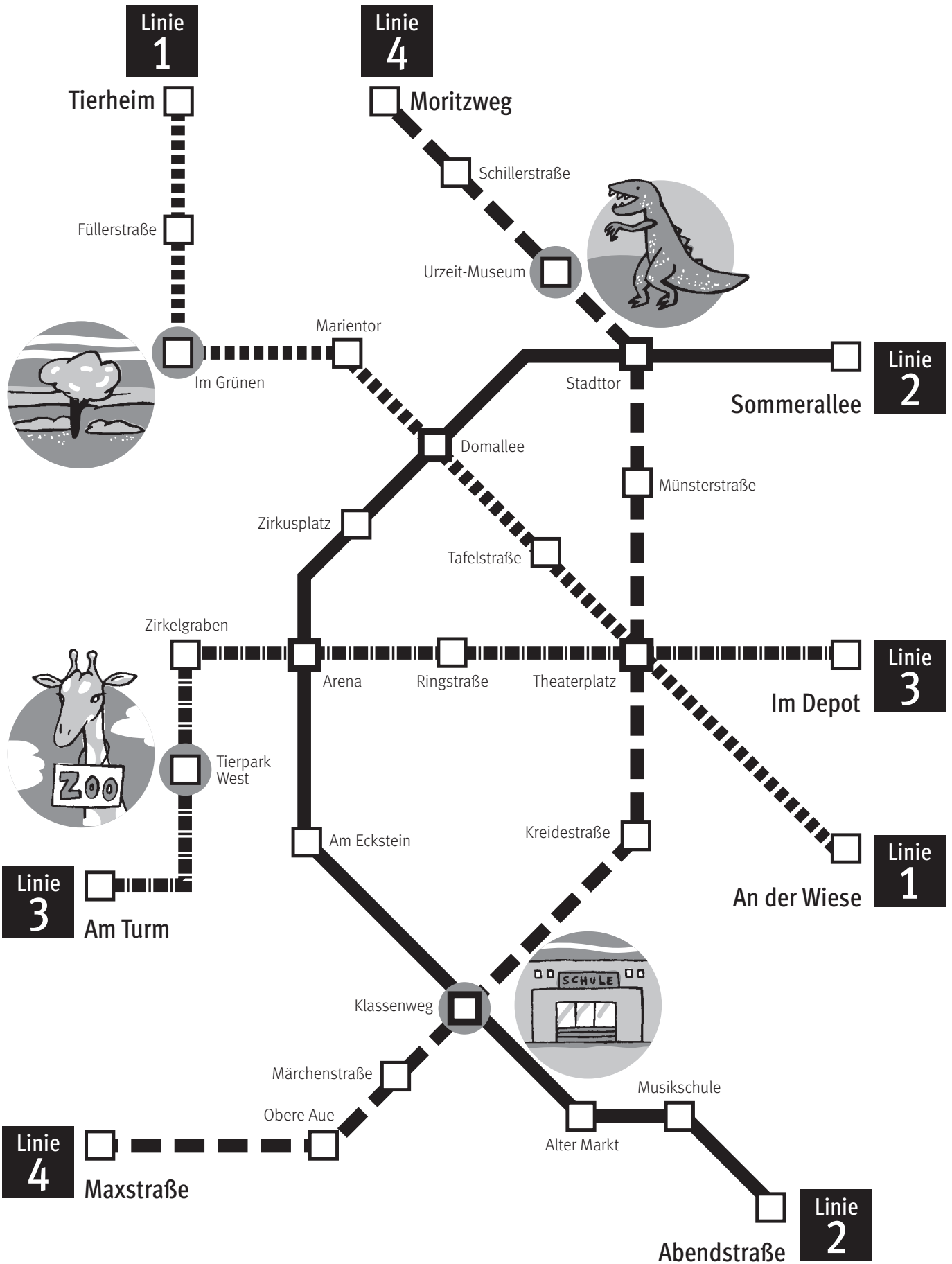


Geschichte 3

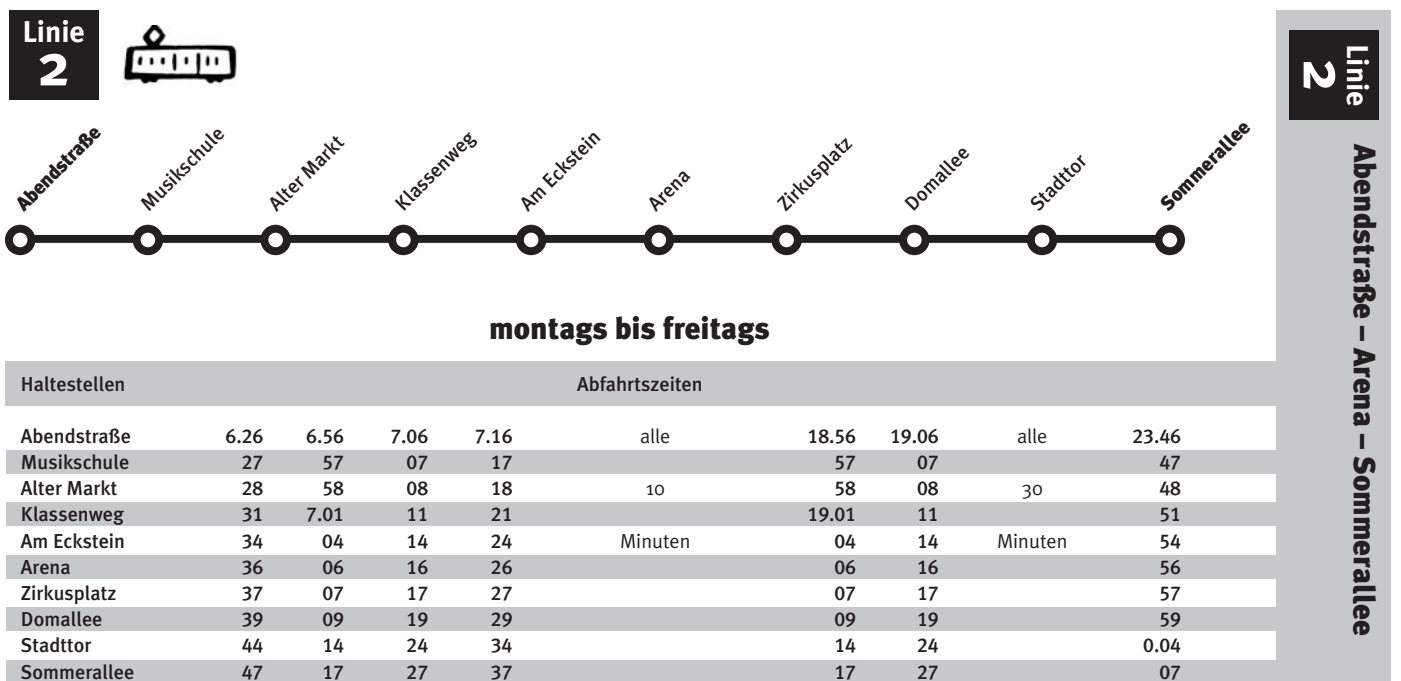



Geschichte 4

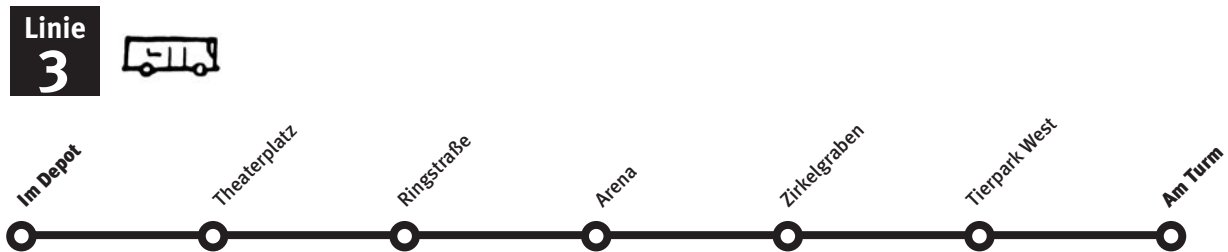
Informationsblatt 1 – Liniplan



## Informationsblatt 2 – Auszüge aus dem Fahrplanbuch Linie 1 und Linie 2



## Informationsblatt 3 – Auszüge aus dem Fahrplanbuch Linie 3 und Linie 4



### montags bis freitags

Haltestellen	Abfahrtszeiten							
Im Depot	6.04	6.34	6.54	7.14	7.34	alle	23.14	23.34
Theaterplatz	08	38	58	18	38		18	38
Ringstraße	11	41	01	21	41	20	21	41
Arena	14	44	04	24	44		24	44
Zirkelgraben	16	46	06	26	46	Minuten	26	46
Tierpark West	18	48	08	28	48		28	48
Am Turm	23	53	13	33	53		33	53

**3** Linie

Im Depot – Theaterplatz – Am Turm



### montags bis freitags

Haltestellen	Abfahrtszeiten								
Maxstraße	6.55	7.25	7.45	8.05	8.25	8.45	alle	23.05	23.25
Obere Aue	58	28	48	08	28	48		08	28
Märchenstraße	7.00	30	50	10	30	50	20	10	30
Klassenweg	03	33	53	13	33	53		13	33
Kreidestraße	05	35	55	15	35	55	Minuten	15	35
Theaterplatz	06	36	56	16	36	56		16	36
Münsterstraße	09	39	59	19	39	59		19	39
Stadttor	11	41	01	21	41	01		21	41
Urzeit-Museum	14	44	04	24	44	04		24	44
Schillerstraße	17	47	07	27	47	07		27	47
Moritzweg	22	52	12	32	52	12		32	52

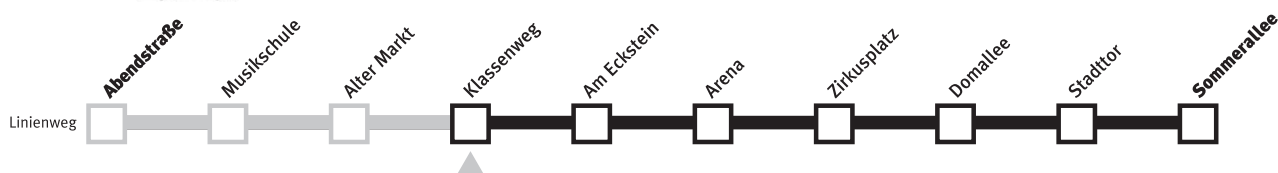
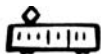
**4** Linie

Maxstraße – Theaterplatz – Moritzweg

## Informationsblatt 4 – Aushangfahrpläne der Haltestellen am Klassenweg

### Linie 2 Haltestelle Klassenweg ▶ Richtung Sommerallee

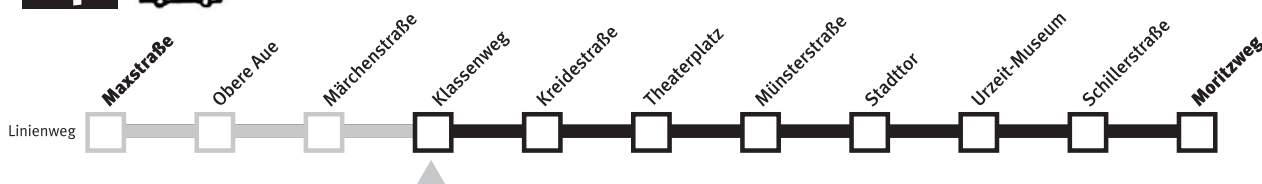
2



Uhr	Montag – Freitag	Samstag	Sonn- und Feiertag	Uhr
4				4
5				5
6	31	51	51	6
7	01 11 21 31 41 51	11 31 31	11 31 51	7
8	01 11 21 31 41 51	11 31 51	11 31 51	8
9	01 11 21 31 41 51	11 31 51	11 31 51	9
10	01 11 21 31 41 51	11 31 51	11 31 51	10
11	01 11 21 31 41 51	11 31 51	11 31 51	11
12	01 11 21 31 41 51	11 31 51	11 31 51	12
13	01 11 21 31 41 51	11 31 51	11 31 51	13
14	01 11 21 31 41 51	11 31 51	11 31 51	14
15	01 11 21 31 41 51	11 31 51	11 31 51	15
16	01 11 21 31 41 51	11 31 51	11 31 51	16
17	01 11 21 31 41 51	11 31 51	11 31 51	17
18	01 11 21 31 41 51	11 31 51	11 31 51	18
19	01 11 31 51	11 31 51	11 31 51	19
20	11 31 51	11 31 51	11 31 51	20
21	11 31 51	11 31 51	11 31 51	21
22	11 31 51	11 31 51	11 31 51	22
23	11 31 51	11 31 51	11 31 51	23
0				0

### Linie 4 Haltestelle Klassenweg ▶ Richtung Moritzweg

4



Uhr	Montag – Freitag	Samstag	Sonn- und Feiertag	Uhr
4				4
5				5
6				6
7	03 33 53	03 33	03 33	7
8	13 33 53	03 33	03 33	8
9	13 33 53	03 33	03 33	9
10	13 33 53	03 33	03 33	10
11	13 33 53	03 33	03 33	11
12	13 33 53	03 33	03 33	12
13	13 33 53	03 33	03 33	13
14	13 33 53	03 33	03 33	14
15	13 33 53	03 33	03 33	15
16	13 33 53	03 33	03 33	16
17	13 33 53	03 33	03 33	17
18	13 33 53	03 33	03 33	18
19	13 33 53	03 33	03 33	19
20	13 33 53	03 33	03 33	20
21	13 33 53	03 33	03 33	21
22	13 33 53	03 33	03 33	22
23	13 33	03 33	03 33	23
0				0